

Vlastivěda

Společnou online hodinu budeme mít ve středu 10.6. v 10:00.

Těším se na Vás.

Učebnice str.45-47

<https://www.youtube.com/watch?v=9JQCOpNVHpY>

zápis do sešitu (vlep do sešitu)

První Habsburkové na českém trůně

Jejich Vláda u nás trvá téměř 400 let až do vyhlášení samostatné Československé republiky v roce 1918.


Ferdinand I. Habsburský

- zvolen po smrti Ludvíka Jagellonského roku 1526
- rázný, cílevědomí panovník

Rod Habsburků byl velmi mocný evropský panovnický rod, který pocházel z Rakouska.

Za jejich vlády došlo:


- Sjednocení zemí Koruny české s Uherskem a rakouskými zeměmi

 HABSBUŘSKÁ ŘÍŠE

Císař Rudolf II.

- vnuk Ferdinanda I.
- jako jediný sídlil v Praze
- byl vzdělaný, miloval a podporoval vědu a umění
- Praha za jeho vlády vzkvétala; na svůj dvůr zval různé umělce (malíře, sochaře)
- také zval astrology, alchymisty, učence
- spíše se věnoval svým zálibám než panování; v r. 1611 Rudolf umírá
- na trůn nastupuje jeho bratr Matyáš

- s nástupem Habsburků na český trůn končí období dějin označované jako **středověk**

 začíná nový dějinný úsek nazývaný **NOVOVĚK**

Renaissance

Jméno: _____

kartonová příloha; učebnice na str. 46

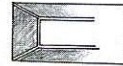
1. Za každý řádek napiš do modrého rámečku číslo obrázku, na kterém je daný znak renesance zobrazen.

- ❖ kašny a sochy
- ❖ ozdobné domovní štíty
- ❖ ozdobné fasády na domech – sgrafita
- ❖ pravidelné stavby s věžičkami
- ❖ kolem zámků parky se vzácnými rostlinami
- ❖ nádvoří s arkádami



1

sgrafita – vzory vyškrabávané do omítky




2





4


3



6



5



2. Do parku dokresli kašnu nebo sochu.



3. Rozhodni a doplň, co je co:

❖ měšťanské domy ❖ zámek

