

20.

Zaměň jedno písmeno a slovo napiš

posavim nebo TISKACIŇ PÍSMEN

pes (p - v)

ves VES

kos (k - n)

výt (v - s)

dám (d - m)

žal (ž - d)

pil (p - b)

sem (s - z)

noc (c - s)

víc (c - m)

lak (k - ň)

koš (š - s)

sám (m - l)

myš (y - á)

tík (i - a)

lak (a - u)





bok (o - u)

dým (ý - ú)







sál (á - ú)

kus (u - o)

vlk (l - a)



VYMYSLI A DOPLŇ TEXT



3



1

$8 + 3 = \square$

$9 + 5 = \square$

$7 + 4 = \square$

$8 + 6 = \square$

$5 + 8 = \square$

$6 + 6 = \square$

$8 + 9 = \square$

$7 + 9 = \square$

$4 + 8 = \square$

$8 + 4 = \square$

$9 + 2 = \square$

$7 + 6 = \square$

$6 + 5 = \square$

$8 + 7 = \square$

$5 + 7 = \square$

$9 + 3 = \square$

$5 + 7 = \square$

$6 + 7 = \square$

$9 + 4 = \square$

$8 + 5 = \square$

$7 + 7 = \square$

$5 + 6 = \square$

$8 + 8 = \square$

$9 + 6 = \square$

Viděli jsme 8 bílých a 3 černé holuby. Kolik holubů jsme viděli?

Petr koupil 7 jahodových a 6 citronových lízátek. Kolik lízátek koupil?

V kytici bylo 5 bílých a 6 růžových růží. Co můžete vypočítat?

$11 \square 17$

$12 \square 8$

$6 \square 14$

$15 \square 5$

$2 \square 8$

$6 \square 4$

$16 \square 18$

$17 \square 9$

$5 \square 13$

$19 \square 19$

$7 \square 9$

$5 \square 3$

2

1 Vyřešte slovní úlohy.

2 Porovnávejte. Doplňte znaménka menší, větší nebo rovná se.

3 Řešte příklady.

4 Návod k procvičování: Vymýšlejte slovní úlohy např. ve dvojicích, v družstvech... Za chybné řešení přilepte úkoly (písnička,...).

5 K procvičení můžete použít procvičovací sešit č. 3, strana 19, cvičení A a B.

5a

+

-

9	3

8	5

7	4

6	6

+

-

7	5

8	4

7	3

9	8

VYMYSLI!

