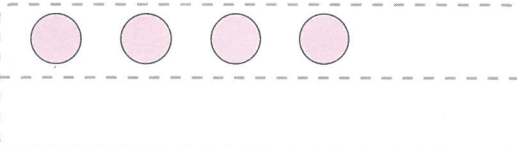



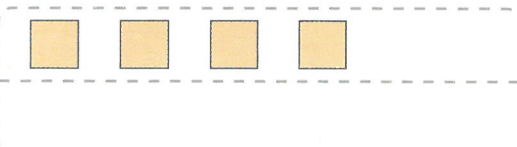



1. Doplň číselné řady podle šipek.

2. Namaluj geometrické tvary podle zadání.

o 2 více 


o 5 méně 

o 3 méně 

o 4 více 

3. Najdi cesty z bludišť. V **modrém bludišti** vybarvi políčka s čísly **menšími než 10**. V **zeleném bludišti** vybarvi políčka s čísly **většími než 10**.

15	18	14	13
1	7	12	19
16	9	4	8
11	10	17	3



12	2	5	10
17	20	8	14
9	15	19	11
3	1	7	4

4. Doplň do příkladů správná čísla.

$10 + \quad = 15$	$19 - \quad = 5$	$\quad - 8 = 11$	$10 + \quad = 20$
$8 + \quad = 10$	$15 - \quad = 11$	$\quad - 5 = 13$	$17 - \quad = 12$
$3 + \quad = 9$	$7 - \quad = 1$	$\quad - 6 = 2$	$6 + \quad = 15$
$15 + \quad = 18$	$20 - \quad = 15$	$\quad - 3 = 5$	$\quad - 5 = 13$
$7 + \quad = 7$	$10 - \quad = 6$	$\quad - 0 = 14$	$20 - \quad = 4$