

1. Porovnej čísla ... >, <, =

$14 \underline{\quad} 17$

$20 \underline{\quad} 12$

$13+1 \underline{\quad} 12$

$11 \underline{\quad} 9$

$16 \underline{\quad} 6$

$20 - 1 \underline{\quad} 16$

$12 \underline{\quad} 18$

$15 \underline{\quad} 11$

$11+2 \underline{\quad} 17$

2. Vypočítej

$13 + 7 = \underline{\quad}$

$20 - 8 = \underline{\quad}$

$14 + \underline{\quad} = 16$

$13 + 5 + 0 = \underline{\quad}$

$15 + 3 = \underline{\quad}$

$19 - 3 = \underline{\quad}$

$16 + \underline{\quad} = 20$

$9 - 5 + 10 = \underline{\quad}$

$12 + 4 = \underline{\quad}$

$20 - 0 = \underline{\quad}$

$\underline{\quad} + 3 = 13$

$18 - 18 + 18 = \underline{\quad}$

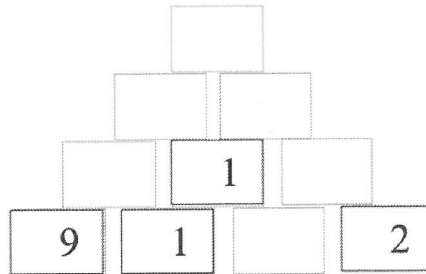
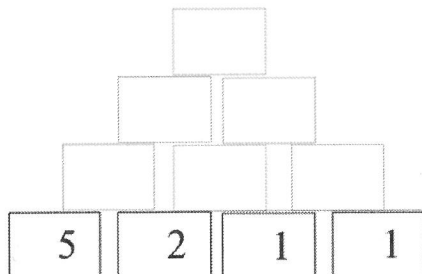
3. Maminka vysadila 16 sazenic okurek a 4 sazenice květáku. Kolik sazenic maminka vysadila dohromady?

Z _____

V _____

Maminka vysadila dohromady _____ sazenic.

4. Doplň pyramidu (+)



5. Dokresli logickou řadu



Jméno: _____

Datum: _____

1. Vypočítej příklady:

$12 + 7 =$	$16 + 2 =$	$19 - 8 =$	$10 - . = 4$	$20 - 5 - 3 =$
$20 - 3 =$	$14 - 2 =$	$10 - 8 =$	$10 - . = 7$	$17 - 2 - 2 =$
$10 + 4 =$	$20 - 9 =$	$18 - 5 =$	$10 - . = 2$	$2 + 8 + 5 =$
$15 - 3 =$	$17 + 3 =$	$14 - 10 =$	$10 - . = 5$	$10 + 5 + 5 =$
$18 + 2 =$	$17 - 4 =$	$15 + 2 =$	$10 - . = 1$	$16 - 3 - 0 =$
$10 - 6 =$	$12 + 5 =$	$20 - 15 =$	$20 - . = 13$	$13 - 1 - 1 =$
$13 + 6 =$	$13 - 0 =$	$16 + 0 =$	$20 - . = 19$	$18 - 4 - 2 =$
$9 - 7 =$	$20 - 20 =$	$8 - 2 =$	$20 - . = 18$	$3 + 4 + 2 =$
$20 - 5 =$	$15 + 4 =$	$0 + 13 =$	$20 - . = 16$	$10 - 2 - 7 =$
$11 + 5 =$	$12 - 10 =$	$3 + 12 =$	$20 - . = 10$	$10 + 6 + 4 =$

2. Porovnej:

20		12
14		16
19		10
8		18
3		6

19		16
12		15
13		12
20		20
0		5

3. Zapiš o kolik se liší:

15	13	o
18	20	o
19	12	o
10	0	o
13	17	o

3. Vyřeš slovní úlohy:

a. Filip má 13 samolepek. Od kamaráda dostal další 4 samolepky. Kolik má Filip samolepek dohromady?

b. Martin šel na nákup. Měl 20 korun. Koupil si lízátko za 7 korun. Kolik korun mu zůstalo?







c. Monika šla na nákup. Koupila si čokoládu za 7 korun a žvýkačku za 3 koruny. Kolik stál nákup dohromady?

1. Spoj čarou časový údaj se správným ciferníkem:

SEDM HODIN

PŮL ČTVRTÉ

PŮL DVANÁCTÉ

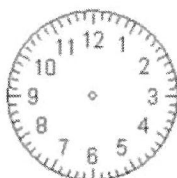


PŮL DEVÁTÉ

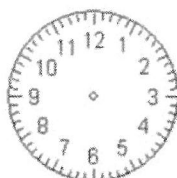
PĚT HODIN

PŮL JEDNÉ

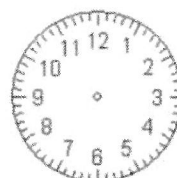
2. Nakresli do ciferníku správně velkou a malou ručičku:



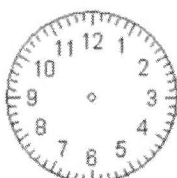
10:00




4:00



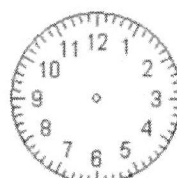
7:00



11:00



8:00



5:00

Zakroužkuj, jaké to pro tebe bylo:
LEHKÉ - STŘEDNĚ TĚŽKÉ - TĚŽKÉ

Jméno:

Spoj značku s názvem:



HLAVNÍ SILNICE

DEJ PŘEDNOST V JÍZDĚ

KŘIŽOVATKA

ZÁKAZ ODBOČENÍ

STEZKA PRO CHODCE

NEJVYŠŠÍ POVOLENÁ RYCHLOST

ZÁKAZ VJEZDU VŠECH
MOTOROVÝCH VOZIDEL

STOP

STEZKA PRO CYKLISTY

ZÁKAZ VJEZDU JÍZDNÍCH KOL

Věty můžete vytisknout a rozstříhat. Děti pak mohou hledat věty rozmístěné někde po místnosti a postupně je plnit.

Uklid' si stůl.

Let' jako letadlo.

Zaťukej na okno.

Posad' se na zem.

**Zaved' maminku (brášku, tetu,..)
do kuchyně.**

Hod' odpaděk do koše.

Sedni si na židli a zase vstaň.

Chyt' se za ucho!

Předved': Jed' jako na kole!

Pohlad' někoho po tváři.

**Prozrad' mamince (tátovi,...), kde
je schovaný další lístek.**

Svit' jako slunce!

Zajed' si na výlet do lesa.

Pojd' blíž.

Chod' jako medvíd'ata.