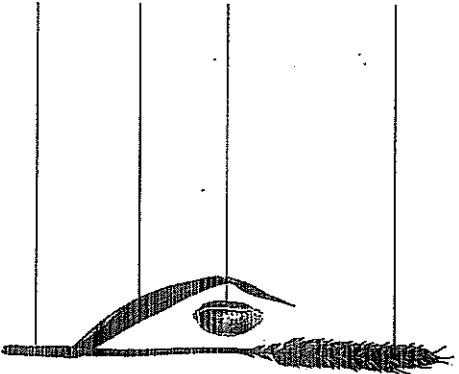





SAMOSTATNÁ PRÁCE: Prohlédni si obrázky pšenice obecné a ovsa setého a doplň k nim názvy částí rostliny jako popisky: list, stéblo, klas, lata, obilka.



pšenice obecná



ovsa setý

TRÍDĚNÍ ROSTLIN: Do tabulky doplň příklady rostlin (příklady plevelů viz učebnice, str. 39).

obiloviny	okopaniny	plevely

PRÁCE S TEXTEM: Z nabídky v závorkách vyber vždy, co platí. Doplň vynechaná slova a čísla stran učebnice, kde se o daných rostlinách píše.

Pšenice obecná je druh (původní – vyšlechtěný). (Potřebuje – Nepotřebuje) dobrou půdu. Daří se jí (v nížinách – v horách), v (mírném – tropickém) podnebném pásu. Její obilky se využívají na: _____

učebnice, str. _____

Lilek brambor pochází z (Jižní Ameriky – Asie – Evropy). Patří do čeledi lilkovitých stejně jako (řepa cukrová – hrách setý – rajče jedlé). Brambory se nesejí, ale vysazují se částí hlíz s očky. Nať a plody (poskytují – neposkytují) užitek. Plody brambor jsou (jedlé – jedovaté).

učebnice, str. _____

Hrách setý je příbuzný (pažitky – jetele – pšenice). Původně roste divoce v (dnešním Turecku – Argentíně – Kanadě). Nymí se pěstuje po celém světě. Jeho plody se nazývají (obilky – lusky – bobule) a využívají se jako potravina bohatá na (cukry – tuky – bílkoviny).

učebnice, str. _____

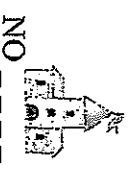
Růže šípková je plevelný keř rostoucí mezi poli. Má (červené – hnědé – žluté) zbarvené plody, které se nazývají _____. Tyto plody mají léčivé účinky, jsou bohaté na vitamín (D – A – C).

učebnice, str. _____

PR - 15

Po roce _____
4860 : 3

1 Vyhledej v učebnici a doplň vymechané údaje.
Potom krátce zopakuj obsah textu svými slovy.
Informace jsem našel/našla v učebnici na str. _____



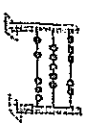
NO _____

V českých zemích narůstala _____ a za ně vládli _____ kteří nehleděli na potřeby českých zemí. Zástupci českých stavů se vzburčili a zvolili jiného krále. Císař vyslal proti českým povstalcům _____
Roku _____ došlo k rozhodující bitvě na _____ Císařské vojsko _____ a Čechům nastaly _____ časy.



2 Vypiš z učebnice, jak a kde císař Ferdinand II. povstalice potrestal.

Tricetiletá válka (1618 - _____)



3 Vyber z nabídky správné slovo, nespřávné škrtni.
Tricetiletá válka (začala – skončila) povstáním Čechů proti Habsburkům. Proti Habsburkům brzy bojovaly i jiné země: (Ulry – Polsko) a Německo. Nakonec (řicetiletá – třileťá) válka skončila bez vítězů, Habsburkové si (udrželi – neudrželi) svou moc. Válka měla na české země krutý dopad.

Život po řicetileté válce

4 Příklad, co k sobě patří. Potřebné informace jsem našel/našla v učebnici na str. _____



1	Válka zrušovala	se nesměli stěhovat
2	Podání	se neustále zvyšovala.
3	Robota	byli pronásledováni.
4	Šlechta	úbytek obyvatel.
5	Nekatolíci	žila v přepychu.

1618

(křesťané (nem římské))
na obavy ve helenské
civilizaci na s. 50. a 51. Vl.