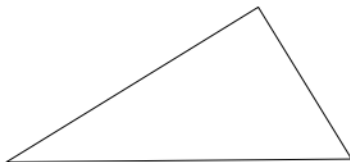
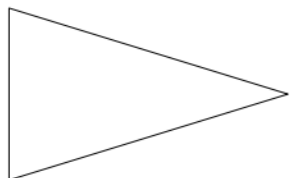
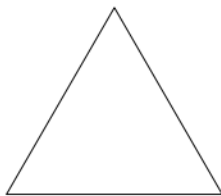
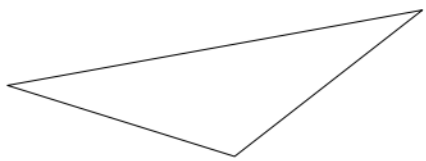
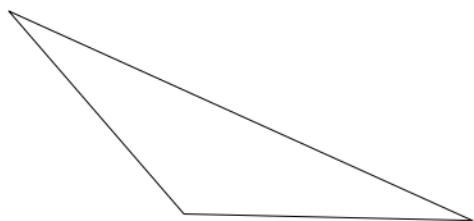
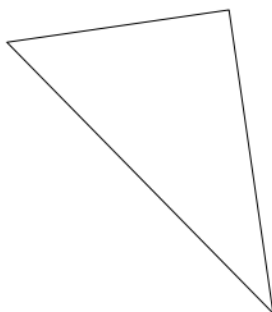
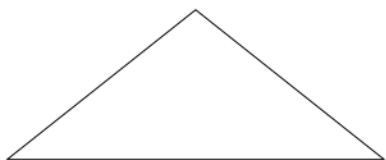


1. Popiš trojúhelníky (vrcholy a strany), sestroj v nich výšky a změř jejich velikost. Vyznač jejich průsečík. Napiš, o jaké trojúhelníky se jedná (podle úhlů i podle stran).



2. Popiš jednotlivé trojúhelníky (strany a vrcholy – různě). V trojúhelnících sestroj všechny těžnice a vyznač těžiště.



3. Co platí pro výšky v tupoúhlém Δ a co v Δ pravouhlém?

4. Sestroj v trojúhelnících střední příčky.

